

Code No. **32/1/3**  
कोड नं.

Candidates must write the code on the title page of the answer-book.  
परीक्षार्थी कोड को उत्तर-पुस्तिका के मुख पृष्ठ पर अवश्य लिखें।

- Please check that this question paper contains 11 printed pages + 2 Maps.
- Code number given on the right hand side of the question paper should be written on the title page of the answer-book by the candidate.
- Please check that this question paper contains 27 questions.
- **Please write down the serial number of the question before attempting it.**
- कृपया जाँच कर लें कि इस प्रश्न-पत्र में मुद्रित पृष्ठ 11 + 2 मानचित्र हैं।
- प्रश्न-पत्र में दाहिने हाथ की ओर दिए गए कोड नम्बर को छात्र उत्तर-पुस्तिका के मुख-पृष्ठ पर लिखें।
- कृपया जाँच कर लें कि इस प्रश्न-पत्र में 27 प्रश्न हैं।
- **कृपया प्रश्न का उत्तर लिखना शुरू करने से पहले, प्रश्न का क्रमांक अवश्य लिखें।**

## SOCIAL SCIENCE

### सामाजिक विज्ञान

*Time allowed : 3 Hours ]*

निर्धारित समय : 3 घण्टे

*[ Maximum Marks : 100*

अधिकतम अंक : 100

#### **General Instructions :**

1. *Answers to questions carrying 2 marks should not exceed 30 words each.*
2. *Answers to questions carrying 4 marks should not exceed 60-80 words each.*
3. *Answers to questions carrying 6 marks should not exceed 100-125 words each.*
4. *Maps should be securely tied in the middle of the Answer-Book.*
5. *Attempt all parts of a question together.*
6. *Stencils or templates for drawing outline maps may be used wherever necessary.*

#### **सामान्य निर्देश :**

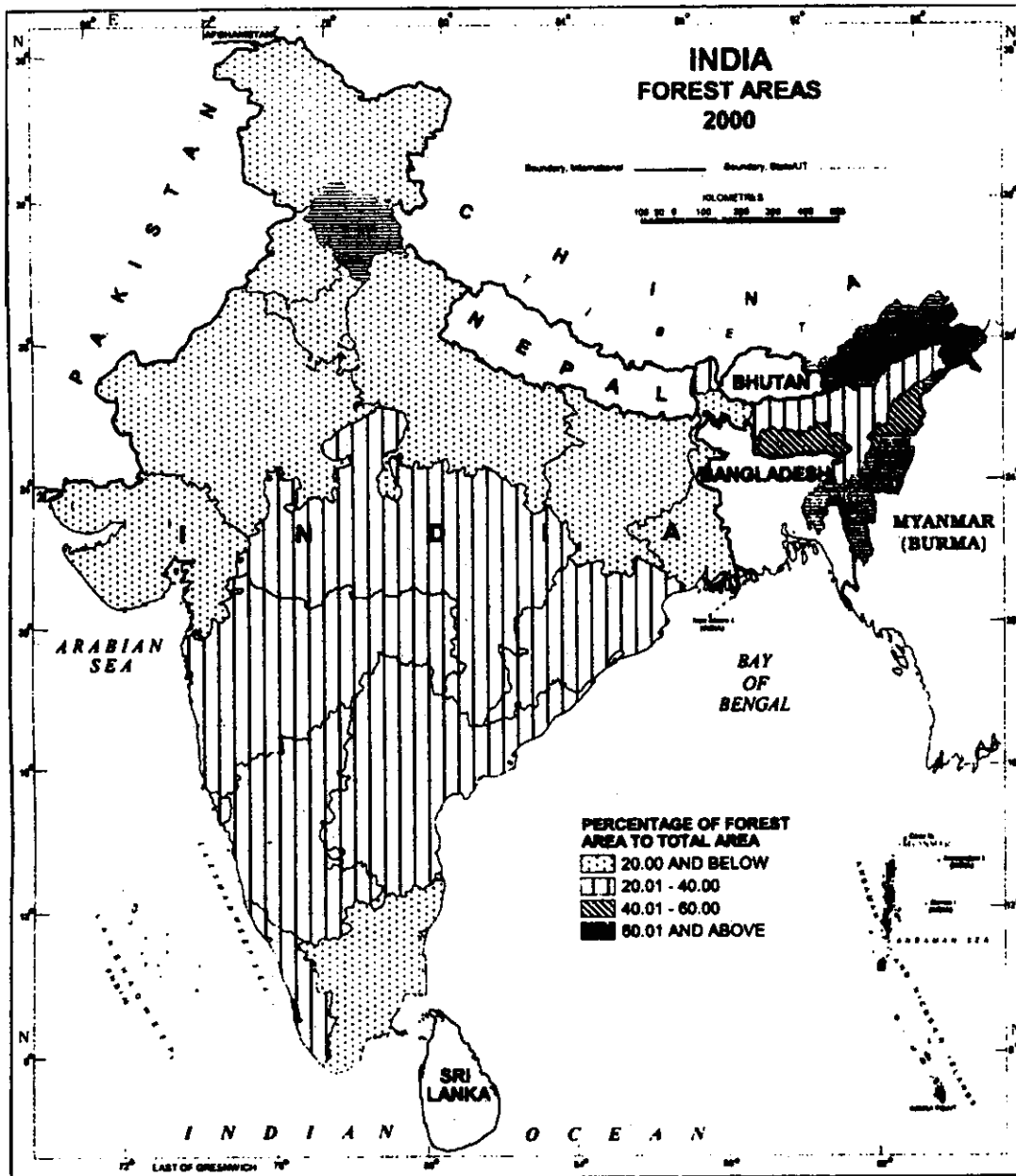
1. 2 अंकों वाले प्रत्येक प्रश्न का उत्तर 30 शब्दों से अधिक न हो।

2. 4 अंकों वाले प्रत्येक प्रश्न का उत्तर 60 से 80 शब्दों से अधिक न हो।
3. 6 अंकों वाले प्रत्येक प्रश्न का उत्तर 100 से 125 शब्दों से अधिक न हो।
4. मानचित्रों को उत्तर-पुस्तिका के बीच में मजबूती से बांधिए।
5. किसी प्रश्न के सभी भागों के उत्तर साथ-साथ दीजिए।
6. जहाँ कहीं आवश्यक हो स्टैसिलों अथवा सांचों को रेखा-मानचित्र बनाने के लिए इस्तेमाल किया जा सकता है।

1. Name two island groups of India. Mention one feature of each island group. 1+1=2  
भारत के दो द्वीप समूहों के नाम बताइये और प्रत्येक द्वीप समूह की एक विशेषता बताइये।
2. "Intimate connections with nature and season can be seen in our music." Give two examples to support this statement. 1+1=2  
"प्रकृति तथा ऋतुओं के साथ गहरे सम्बन्ध हमारे संगीत में देखे जा सकते हैं।" दो उदाहरण देकर इस कथन का समर्थन कीजिए।
3. State any four salient features of 'National Highways'. 4×1/2=2  
'राष्ट्रीय महामार्गों' की किन्हीं चार प्रमुख विशेषताओं का उल्लेख कीजिए।
4. What is a multipurpose project ? Mention any two purposes served by a multipurpose project. 1+1=2  
बहुउद्देशीय परियोजना क्या है ? बहुउद्देशीय परियोजना द्वारा सेवित किन्हीं दो उद्देश्यों का उल्लेख कीजिए।
5. Explain any two human activities responsible for land degradation. 2×1=2  
भूक्षरण के लिए उत्तरदायी किन्हीं दो मानवीय कारणों की व्याख्या कीजिए।
6. Define the term 'Human-made (cultural) Resources'. Give two examples of these resources. 1+1=2  
'मानव निर्मित (सांस्कृतिक) संसाधनों' की परिभाषा दीजिए। इन संसाधनों के दो उदाहरण दीजिए।
7. Why is it necessary to conserve our natural resources ? Give two reasons. 2×1=2  
प्राकृतिक संसाधनों का संरक्षण करना हमारे लिए क्यों आवश्यक है ? दो कारण दीजिए।

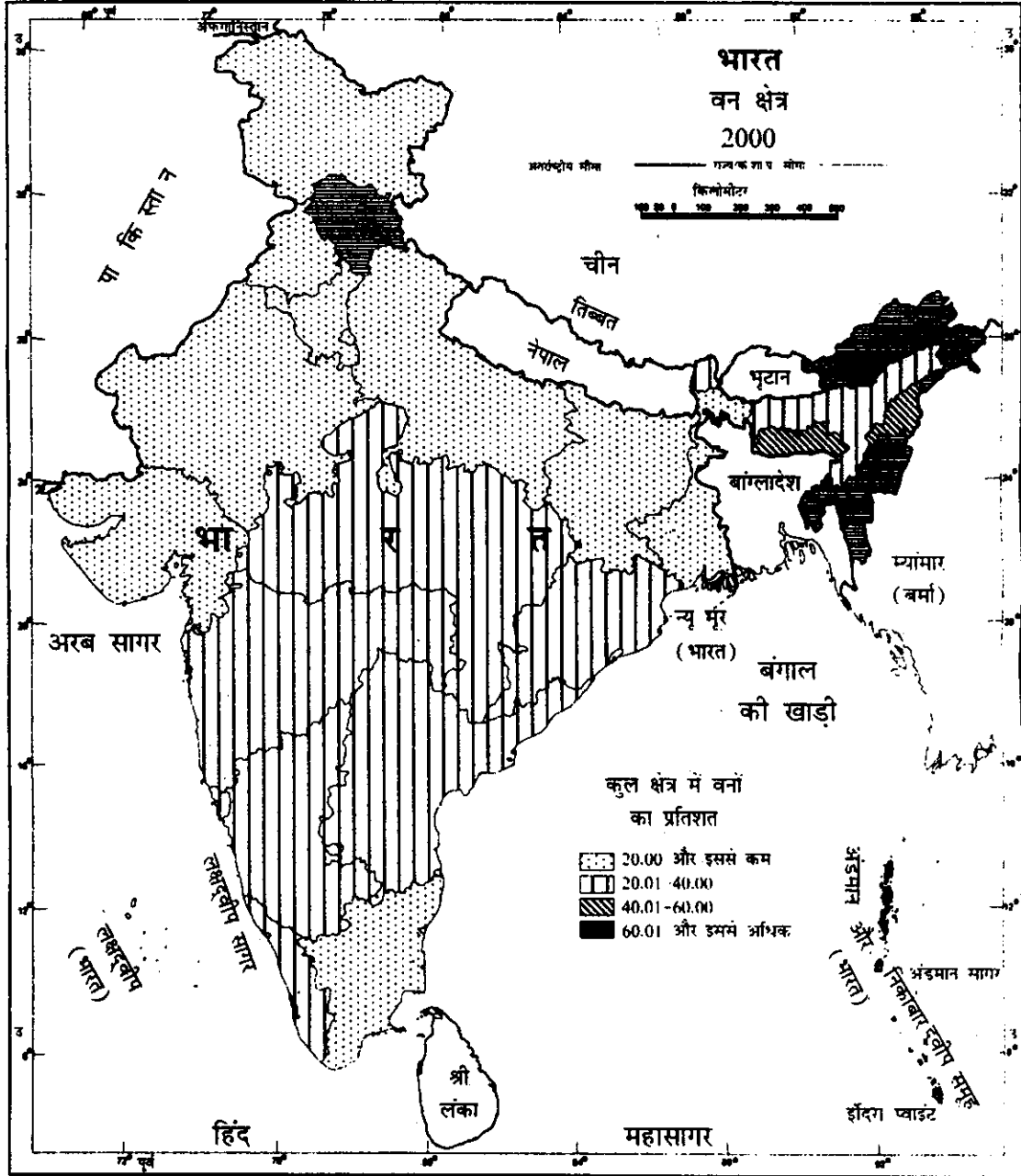
8. Study the map given below, showing distribution of forests in India and answer the questions that follow :

1+1=2



- (8.1) Name any two states from north-east India having more than 60 per cent of their area under forest cover.
- (8.2) Why have these states larger forest area ? Give two reasons.

नीचे दिए गए मानचित्र का अध्ययन कीजिए, जिसमें भारत में वनों का वितरण दिखाया गया है और उसके नीचे दिए गए प्रश्नों के उत्तर दीजिए :



(8.1) भारत के किन्हीं दो उत्तर-पूर्वी राज्यों के नाम बताइए, जिनमें उन वनों के अन्तर्गत क्षेत्रफल 60 प्रतिशत से अधिक भू-भाग पर है।

(8.2) इन राज्यों में वन क्षेत्र अधिक क्यों है ? दो कारण दीजिए।

**Note :** The following question is for **Blind Candidates Only** in lieu of Q. No. 8 :

**नोट :** निम्नलिखित प्रश्न **केवल दृष्टिहीन परीक्षार्थियों** के लिए प्रश्न संख्या 8 के स्थान पर है :

Explain **two** reasons for having high percentage of forest cover in North-Eastern States of India.

भारत के उत्तर-पूर्वी राज्यों में वन क्षेत्रों के उच्च प्रतिशत होने के कारणों **दो** स्पष्ट कीजिए।

9. State any two problems that forced India after 1991 to undertake New Economic Policy. 2

भारत को 1991 के बाद नई आर्थिक नीति अपनाने के लिए बाध्य करने वाली दो समस्याओं का उल्लेख कीजिए।

10. Mention two features of capitalist economy. 1+1=2

पूंजीवाद अर्थव्यवस्था की दो विशेषतायें बताइये।

11. State two beneficial and two harmful effects of W.T.O. (World Trade Organization) on Indian economy. 1/2×4=2

भारतीय अर्थव्यवस्था पर विश्व व्यापार संगठन के दो लाभदायक और दो हानिकारक प्रभाव बताइये।

12. “Problem of resource allocation in mixed economy is effectively solved through market forces and planning process.” Give two facts to support this statement. 2

“मिश्रित अर्थव्यवस्था में संसाधनों के आवंटन की समस्या बाजार की शक्तियों तथा योजना प्रक्रिया से प्रभावी ढंग से तय की जाती है।” इस कथन के समर्थन में दो तथ्य दीजिए।

13. "A moderate and gradual rise in price for all the goods is considered good for any country." Do you agree with this view ? Give two arguments to support your answer. 2

“सभी वस्तुओं में साधारण और शनैः-शनैः मूल्यों में वृद्धि किसी भी देश के लिए अच्छी मानी जाती है।” क्या आप इस विचार से सहमत हैं ? अपने उत्तर के समर्थन में दो तर्क दीजिए।

14. Differentiate between classical kathak dance and kathakali dance with their main features. 4

शास्त्रीय कथक नृत्य और कथकली नृत्य में उनकी विशेषताओं साहित अंतर बताइये।

15. "Literary tradition of India is very old and rich." Explain this statement giving four examples. 4

**Or**

What is a Stupa ? Explain the historical importance of Sanchi Stupa. 4

“भारत की साहित्यिक परम्परा बहुत प्राचीन और समृद्ध है।” चार उदाहरण सहित व्याख्या कीजिए।

**अथवा**

स्तूप क्या है ? सांची के स्तूप का ऐतिहासिक महत्त्व बताइये।

16. Explain the importance of 'Radio' and 'Television' as effective means of mass communication in our country. 2+2=4

हमारे देश में जनसंचार के प्रभावी साधनों के रूप में 'रेडियो' और 'दूरदर्शन' की महत्ता स्पष्ट कीजिए।

17. Describe the meaning of liberalisation of an economy. Mention two main components of the liberalisation policy with examples. 4

अर्थव्यवस्था में उदारीकरण से क्या अभिप्राय है ? उदारीकरण नीति के दो प्रमुख भागों का उदाहरण सहित वर्णन कीजिए।

18. What is meant by cross border terrorism ? Give its main characteristics. 4

सीमा पार आतंकवाद से क्या अर्थ है ? इसकी मुख्य विशेषतायें बताइये।

19. Explain three strategies adopted by the government to protect the interest of consumers with reference to Consumer Protection Act of 1986. 4

भारत सरकार द्वारा उपभोक्ताओं के हितों की रक्षा के लिये अपनाए गए तीन उपायों का विशेष रूप से 1986 के उपभोक्ता संरक्षक अधिनियम के संदर्भ में व्याख्या कीजिए।

20. Explain the measures adopted by the Indian government to protect our natural and cultural heritage. 6

भारत सरकार द्वारा प्राकृतिक व सांस्कृतिक विरासत के संरक्षण के लिये अपनाये गये उपायों की व्याख्या कीजिए।

21. Explain any three physical and three human factors for the localisation of an industry in a particular area. 3+3=6

किसी क्षेत्र विशेष में किसी उद्योग के स्थानीकरण करने के लिए उत्तरदायी किन्हीं तीन भौतिक तथा तीन मानवीय कारकों की व्याख्या कीजिए।

22. What is 'Energy Conservation Act' ? Describe five measures for efficient use of energy. 1+5=6

'ऊर्जा संरक्षण एक्ट' क्या है ? ऊर्जा के कुशल उपयोग के लिए पाँच उपायों का वर्णन कीजिए।

23. What is food security ? Explain any five problems related with food security of India. 1+5=6

**Or**

Explain six main features of subsistence farming in India. 6×1=6

खाद्य सुरक्षा क्या है ? भारत की खाद्य सुरक्षा से संबंधित किन्हीं पाँच समस्याओं की व्याख्या कीजिए।

**अथवा**

भारत में आत्मनिर्वाह कृषि की छः मुख्य विशेषताओं की व्याख्या कीजिए।

24. Examine the causes for the rise in prices in India. Give six reasons. 6

**Or**

Examine the causes of poverty and explain any three measures adopted to remove poverty in India.

भारत में मूल्यों में वृद्धि के कारणों की समीक्षा कीजिए। कोई छः बिन्दु दीजिए।

**अथवा**

गरीबी के कारणों की समीक्षा कीजिए। भारत में गरीबी को हटाने के लिये अपनाये गये कोई से तीन उपायों की व्याख्या कीजिए।

25. Define sex ratio. Describe the trend of sex ratio in India since 1951. What are the factors behind the imbalanced sex ratio in India ? 6

**Or**

Distinguish between economic development and human development. How are they interrelated with each other ?

लिंग अनुपात की परिभाषा बताइये। 1951 के बाद भारत में लिंग अनुपात के रुझानों का वर्णन कीजिए। भारत में असन्तुलित लिंग अनुपात के पीछे क्या कारण हैं ?



## अथवा

आर्थिक विकास और मानव विकास में अन्तर बताइये। वे एक-दूसरे से किस प्रकार सम्बन्धित हैं ?

26. Define communalism. Explain the causes for the rise of communalism in India.

6

साम्प्रदायिकता की परिभाषा बताइये। भारत में साम्प्रदायिकता के बढ़ने के कारण बताइये।

27. On the given map of India (27 a):

27 (a) Locate and label two states each having one of the following monuments and attach the map in your answer book :

2

(1) Martand Temple (2) Hoysaleshwara Temple

भारत के दिए गए मानचित्र में (27 क) :

27 (क) दो राज्यों को पहचान कर उनके नाम लिखिए जिनमें निम्नलिखित इमारतें स्थित हैं और मानचित्र को उत्तर पुस्तिका के साथ संलग्न करें :

(1) मार्तण्ड मंदिर, (2) होयसालेश्वर मंदिर

**Note :** The following question is for **Blind Candidates Only** in lieu of Q. No. 27 (a).

**नोट :** निम्नलिखित प्रश्न **केवल दृष्टिहीन परीक्षार्थियों** के लिए प्रश्न संख्या 27 (क) के स्थान पर है :

Write the names of two states, for each monuments, in which they are situated :

(1) Martand Temple (2) Hoysaleshwara Temple

दो राज्यों के नाम लिखिये जिनमें निम्नलिखित इमारतें स्थित हैं :

(1) मार्तण्ड मंदिर (2) होयसालेश्वर मंदिर

27(b) In the given outline political map of **India** (27 b & c) are shown **three** geographical features. Identify these features marked as **A, B, C**. Write their names correctly on the space provided in the map. Attach the map in your answer-book. 1×3=3

(ख) दिए गए **भारत** के राजनीतिक रेखा-मानचित्र (27 ख एवं ग) में **तीन** भौगोलिक लक्षण **क, ख, ग** दिखाए गए हैं। इन लक्षणों की पहचान कीजिए तथा उनके सही नाम निर्धारित स्थान पर लिखिए। मानचित्र को उत्तर-पुस्तिका के साथ संलग्न कीजिए।

27(c) In the same given outline political map of **India** locate and label the following features and attach the map in your answer-book : 3×1=3

- (i) Koyali Oil Refinery,
- (ii) Salem Iron and Steel Plant,
- (iii) Vishakhapatnam Port.

(ग) इसी दिए गए **भारत** के राजनीतिक रेखा-मानचित्र में निम्नलिखित लक्षणों की स्थिति दिखाइए और उनके नाम लिखिए और मानचित्र को उत्तर-पुस्तिका के साथ संलग्न कीजिए :

- (i) कोयली तेल परिष्करणशाला
- (ii) सेलम लोहा और इस्पात संयंत्र
- (iii) विशाखापत्तनम पत्तन

**Note:** The following question is for the **Blind Candidates Only** in lieu of Q. No. 27 'b' and 27 'c' :

(27.1) Name any one Software Technology Park located in Karnataka.

(27.2) Name the thermal power plant located at the head of Gulf of Khambat in Gujarat.

(27.3) Name the International Air Port located in Assam.

(27.4) Name any one oil refinery of Gujarat.

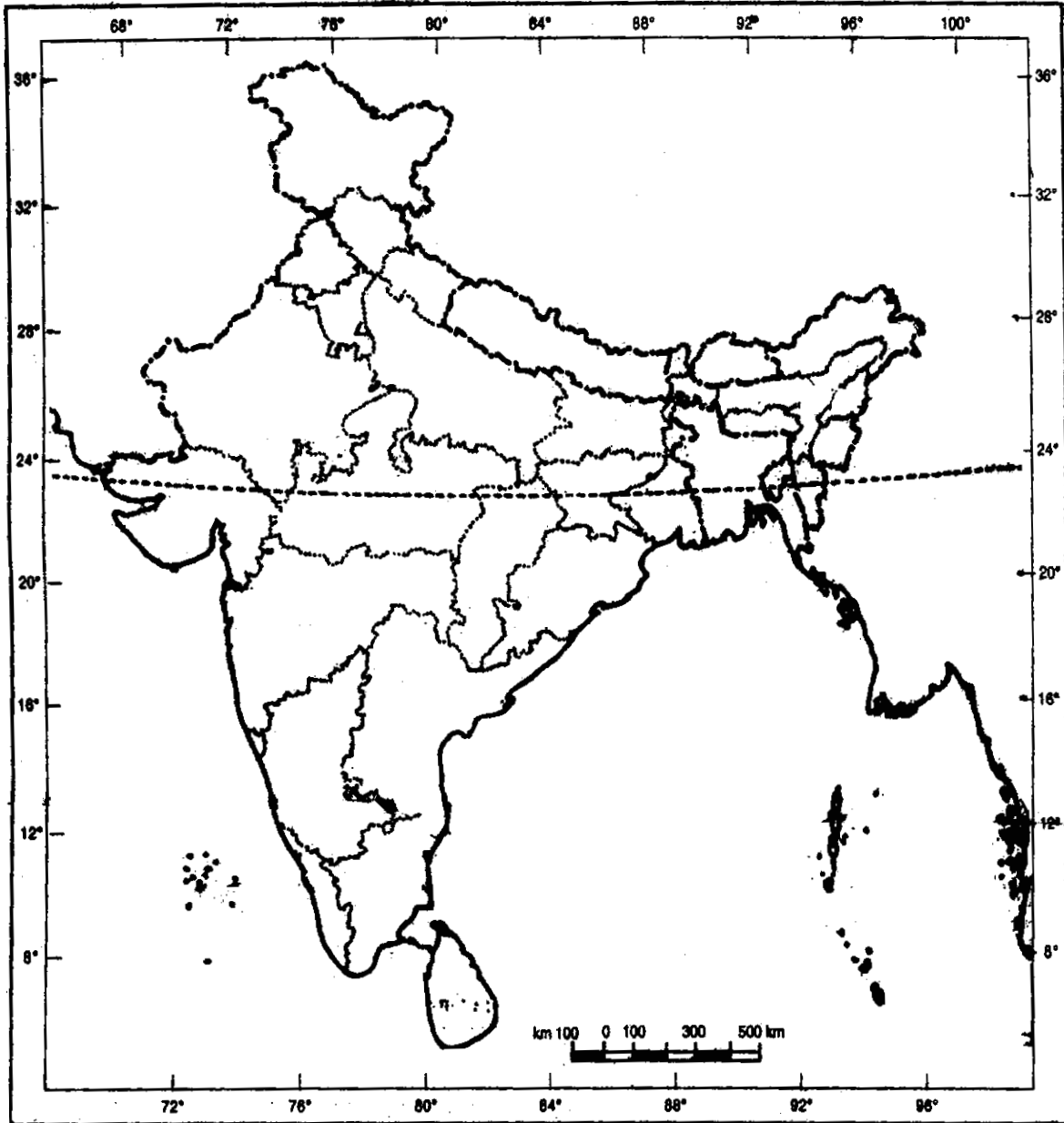
(27.5) Name the iron and steel plant of Tamil Nadu.

(27.6) Which is the major sea port of Andhra Pradesh ?

**नोट :** निम्नलिखित प्रश्न **केवल दृष्टिहीन परीक्षार्थियों** के लिए प्रश्न संख्या **27 'ख'** और **27 'ग'** के बदले में हैं :

- (27.1) कर्नाटक राज्य में स्थित किसी एक साफ्टवेयर प्रौद्योगिकी पार्क का नाम बताइए।
- (27.2) गुजरात में खम्भात की खाड़ी के सिरे पर स्थित ताप शक्ति केन्द्र का नाम बताइए।
- (27.3) असम में स्थित अन्तर्राष्ट्रीय वायु पत्तन का नाम बताइए।
- (27.4) गुजरात की किसी एक तेल परिष्करणशाला का नाम बताइए।
- (27.5) तमिलनाडु के लोहा और इस्पात संयंत्र का नाम बताइए।
- (27.6) आंध्र प्रदेश का प्रमुख समुद्री पत्तन कौन सा है ?

Map for Q. No. 27 (a)  
प्रश्न सं. 27 (क) के लिये मानचित्र



Map for Q. No. 27 (b & c)  
 प्रश्न सं. 27 (ख और ग) के लिये मानचित्र

