

Code No. **32/1/2**
कोड नं.

Candidates must write the code on the title page of the answer-book. परीक्षार्थी कोड को उत्तर-पुस्तिका के मुख पृष्ठ पर अवश्य लिखें।

- Please check that this question paper contains 11 printed pages + 2 Maps.
- Code number given on the right hand side of the question paper should be written on the title page of the answer-book by the candidate.
- Please check that this question paper contains 27 questions.
- **Please write down the serial number of the question before attempting it.**
- कृपया जाँच कर लें कि इस प्रश्न-पत्र में मुद्रित पृष्ठ 11 + 2 मानचित्र हैं।
- प्रश्न-पत्र में दाहिने हाथ की ओर दिए गए कोड नम्बर को छात्र उत्तर-पुस्तिका के मुख-पृष्ठ पर लिखें।
- कृपया जाँच कर लें कि इस प्रश्न-पत्र में 27 प्रश्न हैं।
- **कृपया प्रश्न का उत्तर लिखना शुरू करने से पहले, प्रश्न का क्रमांक अवश्य लिखें।**

SOCIAL SCIENCE सामाजिक विज्ञान

Time allowed : 3 Hours]

निर्धारित समय : 3 घण्टे

[Maximum Marks : 100

अधिकतम अंक : 100

General Instructions :

1. *Answers to questions carrying 2 marks should not exceed 30 words each.*
2. *Answers to questions carrying 4 marks should not exceed 60-80 words each.*
3. *Answers to questions carrying 6 marks should not exceed 100-125 words each.*
4. *Maps should be securely tied in the middle of the Answer-Book.*
5. *Attempt all parts of a question together.*
6. *Stencils or templates for drawing outline maps may be used wherever necessary.*

सामान्य निर्देश :

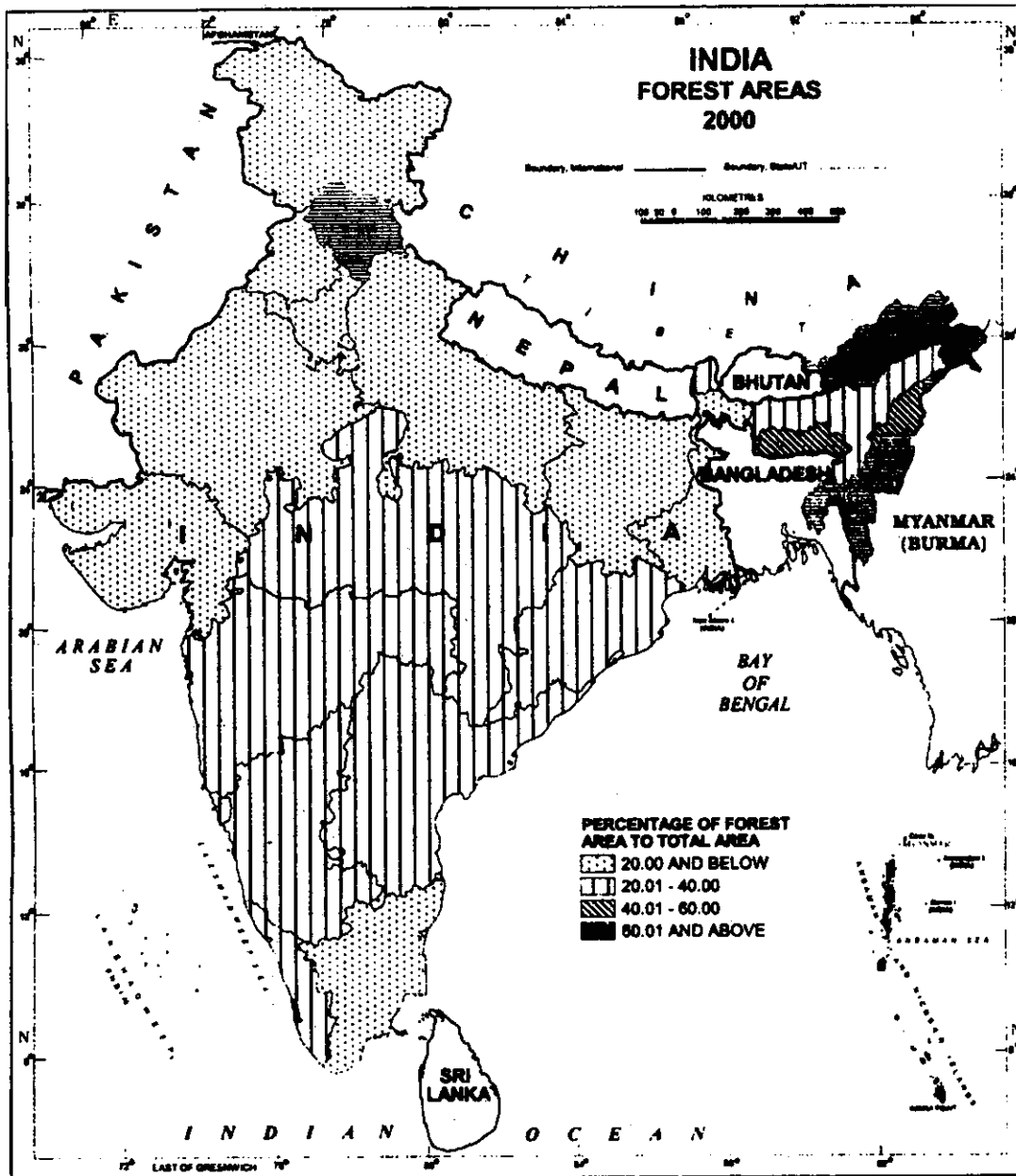
1. 2 अंकों वाले प्रत्येक प्रश्न का उत्तर 30 शब्दों से अधिक न हो।

2. 4 अंकों वाले प्रत्येक प्रश्न का उत्तर 60 से 80 शब्दों से अधिक न हो।
3. 6 अंकों वाले प्रत्येक प्रश्न का उत्तर 100 से 125 शब्दों से अधिक न हो।
4. मानचित्रों को उत्तर-पुस्तिका के बीच में मजबूती से बांधिए।
5. किसी प्रश्न के सभी भागों के उत्तर साथ-साथ दीजिए।
6. जहाँ कहीं आवश्यक हो स्टीसिलों अथवा सांचों को रेखा-मानचित्र बनाने के लिए इस्तेमाल किया जा सकता है।

1. "Intimate connections with nature and season can be seen in our music." Give two examples to support this statement. 1+1=2
 "प्रकृति तथा ऋतुओं के साथ गहरे सम्बन्ध हमारे संगीत में देखे जा सकते हैं।" दो उदाहरण देकर इस कथन का समर्थन कीजिए।
2. Name two island groups of India. Mention one feature of each island group. 1+1=2
 भारत के दो द्वीप समूहों के नाम बताइये और प्रत्येक द्वीप समूह की एक विशेषता बताइये।
3. Explain any two human activities responsible for land degradation. 2×1=2
 भूक्षरण के लिए उत्तरदायी किन्हीं दो मानवीय कारणों की व्याख्या कीजिए।
4. Why is it necessary to conserve our natural resources ? Give two reasons. 2×1=2
 प्राकृतिक संसाधनों का संरक्षण करना हमारे लिए क्यों आवश्यक है ? दो कारण दीजिए।
5. What is a multipurpose project ? Mention any two purposes served by a multipurpose project. 1+1=2
 बहुउद्देशीय परियोजना क्या है ? बहुउद्देशीय परियोजना द्वारा सेवित किन्हीं दो उद्देश्यों का उल्लेख कीजिए।
6. State any four salient features of 'National Highways'. 4×1/2=2
 'राष्ट्रीय महामार्गों' की किन्हीं चार प्रमुख विशेषताओं का उल्लेख कीजिए।
7. Define the term 'Human-made (cultural) Resources'. Give two examples of these resources. 1+1=2
 'मानव निर्मित (सांस्कृतिक) संसाधनों' की परिभाषा दीजिए। इन संसाधनों के दो उदाहरण दीजिए।

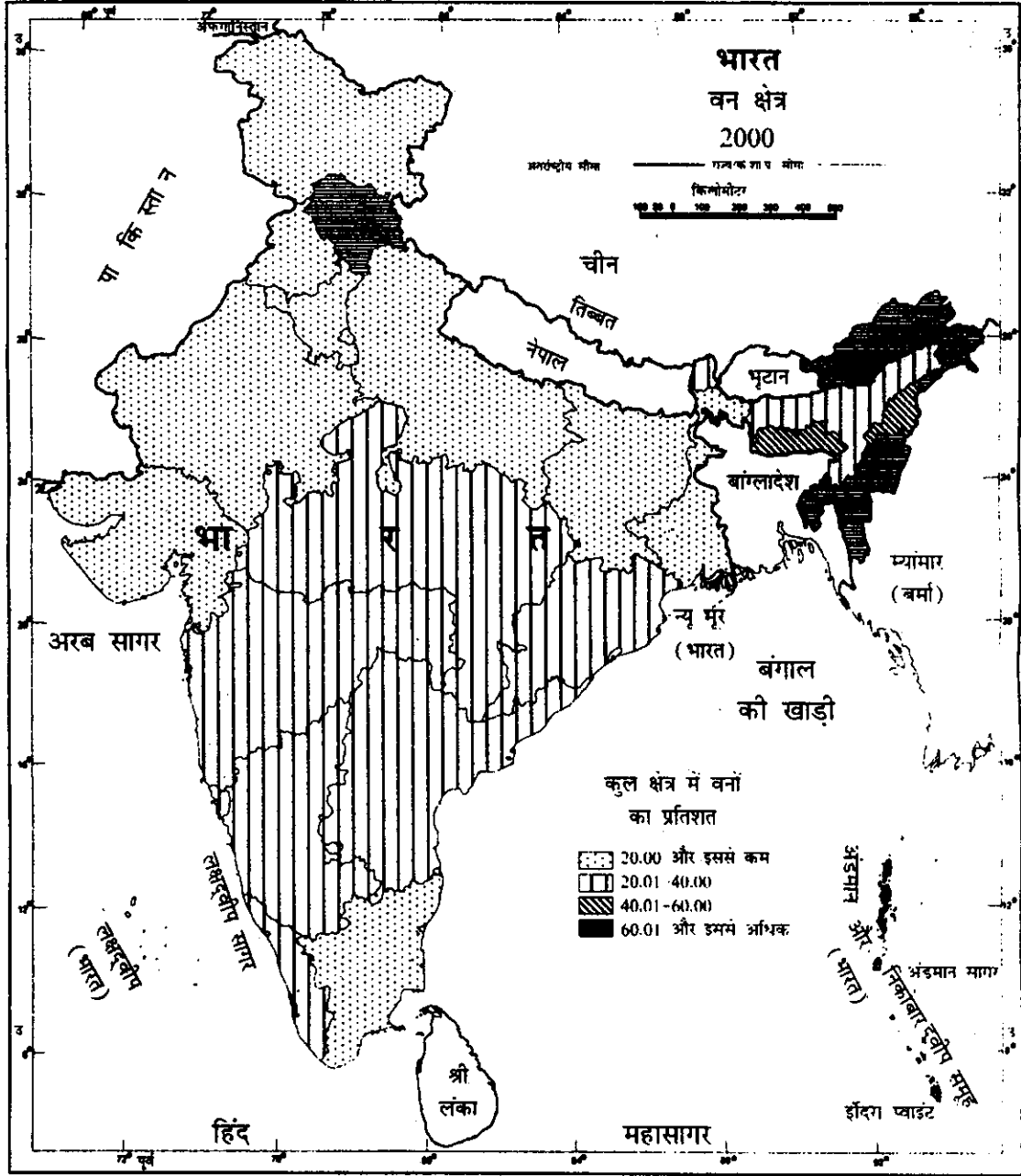
8. Study the map given below, showing distribution of forests in India and answer the questions that follow :

1+1=2



- (8.1) Name any two states from north-east India having more than 60 per cent of their area under forest cover.
- (8.2) Why have these states larger forest area ? Give two reasons.

नीचे दिए गए मानचित्र का अध्ययन कीजिए, जिसमें भारत में वनों का वितरण दिखाया गया है और उसके नीचे दिए गए प्रश्नों के उत्तर दीजिए :



(8.1) भारत के किन्हीं दो उत्तर-पूर्वी राज्यों के नाम बताइए, जिनमें उन वनों के अन्तर्गत क्षेत्रफल 60 प्रतिशत से अधिक भू-भाग पर है।

(8.2) इन राज्यों में वन क्षेत्र अधिक क्यों है ? दो कारण दीजिए।

Note : The following question is for **Blind Candidates Only** in lieu of Q. No. 8 :

नोट : निम्नलिखित प्रश्न **केवल दृष्टिहीन परीक्षार्थियों** के लिए प्रश्न संख्या 8 के स्थान पर है :

Explain **two** reasons for having high percentage of forest cover in North-Eastern States of India.

भारत के उत्तर-पूर्वी राज्यों में वन क्षेत्रों के उच्च प्रतिशत होने के कारणों **दो** स्पष्ट कीजिए।

9. State any two problems that forced India after 1991 to undertake New Economic Policy. 2

भारत को 1991 के बाद नई आर्थिक नीति अपनाने के लिए बाध्य करने वाली दो समस्याओं का उल्लेख कीजिए।

10. Mention two features of mixed economy. 2

मिश्रित अर्थव्यवस्था की दो विशेषताएँ बताइये।

11. "Problem of resource allocation in mixed economy is effectively solved through market forces and planning process." Give two facts to support this statement. 2

"मिश्रित अर्थव्यवस्था में संसाधनों के आवंटन की समस्या बाजार की शक्तियों तथा योजना प्रक्रिया से प्रभावी ढंग से तय की जाती है।" इस कथन के समर्थन में दो तथ्य दीजिए।

12. "A moderate and gradual rise in price for all the goods is considered good for any country." Do you agree with this view ? Give two arguments to support your answer. 2

"सभी वस्तुओं में साधारण और शनैः-शनैः मूल्यों में वृद्धि किसी भी देश के लिए अच्छी मानी जाती है।" क्या आप इस विचार से सहमत हैं ? अपने उत्तर के समर्थन में दो तर्क दीजिए।

13. Mention two features of capitalist economy. 1+1=2

पूँजीवाद अर्थव्यवस्था की दो विशेषतायें बताइये।

14. Explain the main features of Indian forts and palaces with examples. Why some of these have been converted into heritage hotels recently ? Give one reason. 3+1=4

भारतीय किलों (दुर्गों) और महलों की मुख्य विशेषताओं की संक्षेप में उदाहरण सहित व्याख्या कीजिए। हाल ही में कुछ को विरासत होटलों में क्यों बदल दिया है ? एक कारण बताइये।

15. "Literary tradition of India is very old and rich." Explain this statement giving four examples. 4

Or

What is a Stupa ? Explain the historical importance of Sanchi Stupa. 4

"भारत की साहित्यिक परम्परा बहुत प्राचीन और समृद्ध है।" चार उदाहरण सहित व्याख्या कीजिए।

अथवा

स्तूप क्या है ? सांची के स्तूप का ऐतिहासिक महत्त्व बताइये।

16. Explain the importance of 'Radio' and 'Television' as effective means of mass communication in our country. 2+2=4

हमारे देश में जनसंचार के प्रभावी साधनों के रूप में 'रेडियो' और 'दूरदर्शन' की महत्ता स्पष्ट कीजिए।

17. Explain the main causes for the increase in the prices. Give two arguments in favour of regulating the rising prices. 4

मूल्यों में वृद्धि होने के कारणों की व्याख्या कीजिए, मूल्यों में वृद्धि का नियमन करने के पक्ष में दो तर्क दीजिए।

18. Explain three strategies adopted by the government to protect the interest of consumers with reference to Consumer Protection Act of 1986. 4

भारत सरकार द्वारा उपभोक्ताओं के हितों की रक्षा के लिये अपनाए गए तीन उपायों का विशेष रूप से 1986 के उपभोक्ता संरक्षक अधिनियम के संदर्भ में व्याख्या कीजिए।

19. What is meant by cross border terrorism ? Give its main characteristics. 4

सीमा पार आतंकवाद से क्या अर्थ है ? इसकी मुख्य विशेषतायें बताइये।

20. Explain the measures taken up by Archaeological Survey of India for the conservation of historical monuments in India. 6

भारतीय पुरातत्त्व सर्वेक्षण द्वारा भारत में ऐतिहासिक स्मारकों के संरक्षण के लिए किए गए उपायों की व्याख्या कीजिए।

21. What is biotechnology ? Explain any five advantages of the use of biotechnology in Indian agriculture. 1+5=6

Or

Explain any six problems faced by Indian agriculture. 6×1=6

जैव प्रौद्योगिकी किसे कहते हैं ? भारतीय कृषि में जैव प्रौद्योगिकी के प्रयोग से होने वाले किन्हीं पाँच लाभों को स्पष्ट कीजिए।

अथवा

भारतीय कृषि की किन्हीं छः समस्याओं की व्याख्या कीजिए।

22. Explain with examples any **four** factors responsible for centralisation of iron and steel industry in Peninsular India. 4×1½=6

प्रायद्वीपीय भारत में लोहा और इस्पात उद्योग के केन्द्रीकरण के उत्तरदायी किन्हीं चार कारकों की उदाहरण सहित व्याख्या कीजिए।

23. What is 'Energy Conservation Act' ? Describe five measures for efficient use of energy. 1+5=6

'ऊर्जा संरक्षण एक्ट' क्या है ? ऊर्जा के कुशल उपयोग के लिए पाँच उपायों का वर्णन कीजिए।

24. Define communalism. Explain the causes for the rise of communalism in India. 6

साम्प्रदायिकता की परिभाषा बताइये। भारत में साम्प्रदायिकता के बढ़ने के कारण बताइये।

25. What does gender empowerment focus upon ? Explain any four steps taken in the direction of women's empowerment.

Or

Define corruption. How does corruption create many social evils ? Suggest two measures to check it. 6

महिला सशक्तिकरण का केन्द्र-बिन्दु क्या है ? महिला सशक्तिकरण की दिशा में उठाए गए चार उपायों की व्याख्या कीजिए।

अथवा

भ्रष्टाचार की परिभाषा बताइये। भ्रष्टाचार किस प्रकार अनेक सामाजिक बुराइयाँ उत्पन्न करता है ? इन्हें रोकने के दो उपाय बताइये।

26. Examine the causes for the rise in prices in India. Give six reasons.

6

Or

Examine the causes of poverty and explain any three measures adopted to remove poverty in India.

भारत में मूल्यों में वृद्धि के कारणों की समीक्षा कीजिए। कोई छः बिन्दु दीजिए।

अथवा

गरीबी के कारणों की समीक्षा कीजिए। भारत में गरीबी को हटाने के लिये अपनाये गये कोई से तीन उपायों की व्याख्या कीजिए।

27. On the given map of India (27 a):

27 (a) Locate and label two states each having one of the following monuments and attach the map in your answer book :

2

(1) Martand Temple (2) Hoysaleshwara Temple

भारत के दिए गए मानचित्र में (27 क) :

27 (क) दो राज्यों को पहचान कर उनके नाम लिखिए जिनमें निम्नलिखित इमारतें स्थित हैं और मानचित्र को उत्तर-पुस्तिका के साथ संलग्न करें :

(1) मार्तण्ड मंदिर, (2) होयसालेश्वर मंदिर

Note : The following question is for **Blind Candidates Only** in lieu of Q. No. 27 (a).

नोट : निम्नलिखित प्रश्न **केवल दृष्टिहीन परीक्षार्थियों** के लिए प्रश्न संख्या 27 (क) के स्थान पर है :

Write the names of two states, for each monuments, in which they are situated :

(1) Martand Temple (2) Hoysaleshwara Temple

दो राज्यों के नाम लिखिये जिनमें निम्नलिखित इमारतें स्थित हैं :

(1) मार्तण्ड मंदिर (2) होयसालेश्वर मंदिर

27(b) In the given outline political map of **India** (27 b & c) are shown **three** geographical features. Identify these features marked as **A, B, C**. Write their names correctly on the space provided in the map. Attach the map in your answer-book. 1×3=3

(ख) दिए गए **भारत** के राजनीतिक रेखा-मानचित्र (27 ख एवं ग) में **तीन** भौगोलिक लक्षण **क, ख, ग** दिखाए गए हैं। इन लक्षणों की पहचान कीजिए तथा उनके सही नाम निर्धारित स्थान पर लिखिए। मानचित्र को उत्तर-पुस्तिका के साथ संलग्न कीजिए।

27(c) In the same given outline political map of **India** locate and label the following features and attach the map in your answer-book : 3×1=3

- (i) Koyali Oil Refinery,
- (ii) Salem Iron and Steel Plant,
- (iii) Vishakhapatnam Port.

(ग) इसी दिए गए **भारत** के राजनीतिक रेखा-मानचित्र में निम्नलिखित लक्षणों की स्थिति दिखाइए और उनके नाम लिखिए और मानचित्र को उत्तर-पुस्तिका के साथ संलग्न कीजिए :

- (i) कोयली तेल परिष्करणशाला
- (ii) सेलम लोहा और इस्पात संयंत्र
- (iii) विशाखापत्तनम पत्तन

Note: The following question is for the **Blind Candidates Only** in lieu of Q. No. 27 'b' and 27 'c' :

(27.1) Name any one Software Technology Park located in Karnataka.

(27.2) Name the thermal power plant located at the head of Gulf of Khambat in Gujarat.

(27.3) Name the International Air Port located in Assam.

(27.4) Name any one oil refinery of Gujarat.

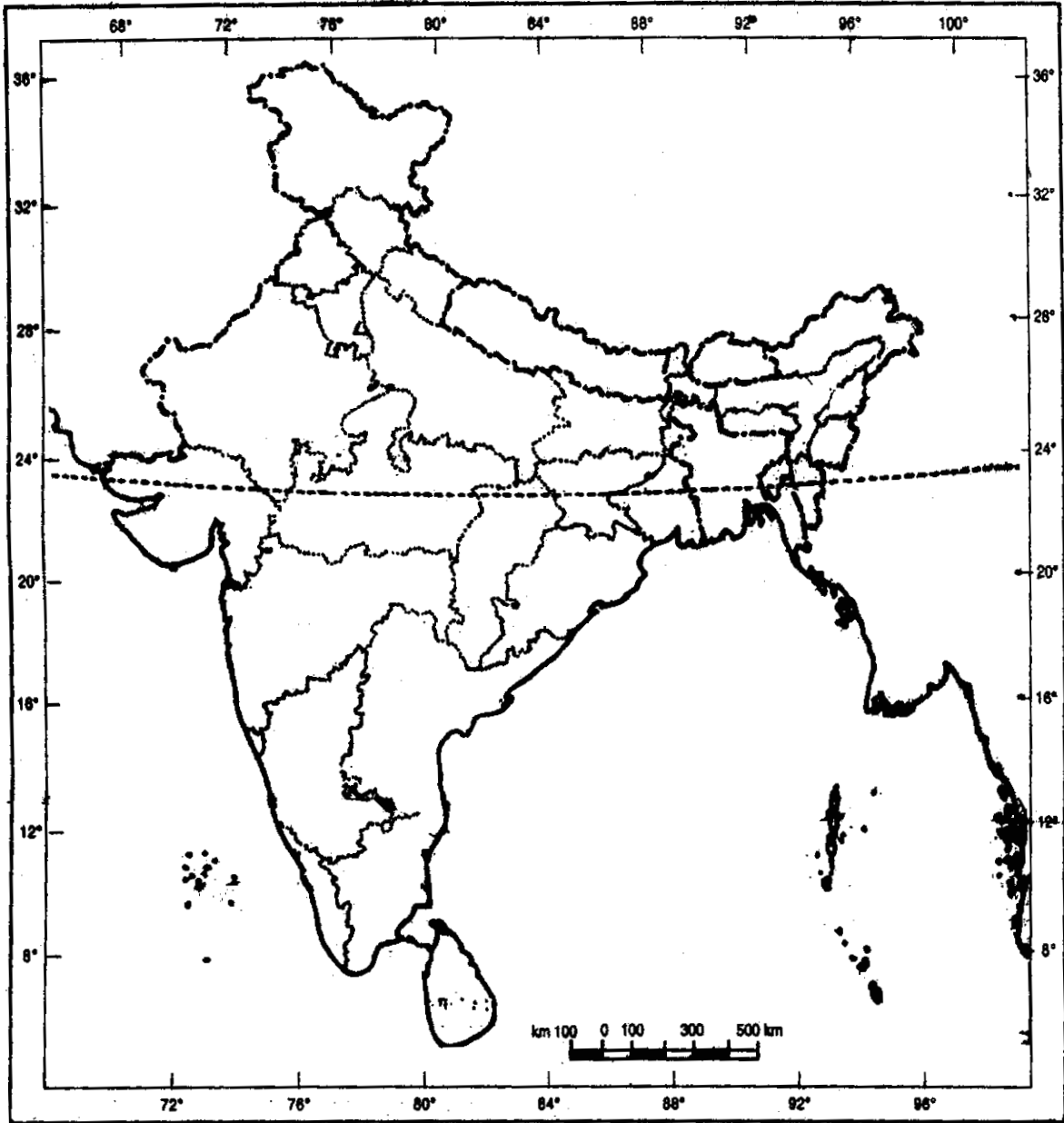
(27.5) Name the iron and steel plant of Tamil Nadu.

(27.6) Which is the major sea port of Andhra Pradesh ?

नोट : निम्नलिखित प्रश्न **केवल दृष्टिहीन परीक्षार्थियों** के लिए प्रश्न संख्या **27 'ख'** और **27 'ग'** के बदले में हैं :

- (27.1) कर्नाटक राज्य में स्थित किसी एक साफ्टवेयर प्रौद्योगिकी पार्क का नाम बताइए।
- (27.2) गुजरात में खम्भात की खाड़ी के सिरे पर स्थित ताप शक्ति केन्द्र का नाम बताइए।
- (27.3) असम में स्थित अन्तर्राष्ट्रीय वायु पत्तन का नाम बताइए।
- (27.4) गुजरात की किसी एक तेल परिष्करणशाला का नाम बताइए।
- (27.5) तमिलनाडु के लोहा और इस्पात संयंत्र का नाम बताइए।
- (27.6) आंध्र प्रदेश का प्रमुख समुद्री पत्तन कौन सा है ?

Map for Q. No. 27 (a)
प्रश्न सं. 27 (क) के लिये मानचित्र



Map for Q. No. 27 (b & c)

प्रश्न सं. 27 (ख और ग) के लिये मानचित्र

